


VENETO


Colora l'areogramma e completa il testo. In caso di dubbi puoi consultare il Sussidiario o l'Atlante.



- montagna: 29%
- collina: 15%
- pianura: 56%

- Il Veneto confina con _____
- Il suo territorio è prevalentemente _____
- Il capoluogo è _____
- Altre città importanti sono _____
- È una Regione a statuto speciale? sì no

Leggi le didascalie, poi usa le lettere per collegare ciascuna didascalia all'immagine corrispondente.




- A È una città costruita sull'acqua ed è meta di turisti durante tutto l'anno.
- B Alpi e Prealpi offrono scenari suggestivi, come quello della Marmolada nelle Dolomiti.
- C Sono numerose le piccole e medie imprese che producono occhiali, abbigliamento, prodotti alimentari, calzature e mobili.
- D La maggior parte della popolazione vive in pianura, dov'è molto praticata l'agricoltura.
- E Nell'artigianato sono rinomati i vetri di Murano e i merletti di Burano.
- F Il litorale, basso e sabbioso, è caratterizzato da lagune.

Utilizza le informazioni che puoi ricavare dallo schema iniziale e dalle immagini, ed esponi a un/una tuo/a compagno/a ciò che hai imparato sul Veneto.

EMILIA-ROMAGNA



● Colora l'areogramma e completa il testo. In caso di dubbi puoi consultare il Sussidiario o l'Atlante.



■ montagna: 25%
 ■ collina: 27%
 ■ pianura: 48%

- L'Emilia-Romagna confina con _____
- Il suo territorio è prevalentemente _____
- Il capoluogo è _____
- Altre città importanti sono _____
- È una Regione a statuto speciale? sì no

● Leggi le didascalie, poi usa le lettere per collegare ciascuna didascalia all'immagine corrispondente.



- A L'allevamento di bovini e suini fornisce le materie prime all'industria alimentare, che produce il formaggio Parmigiano Reggiano e salumi come il prosciutto crudo.
- B La costa adriatica, bassa e sabbiosa, attira molti turisti.
- C La maggior parte della popolazione vive nelle città in pianura, dove si trovano anche le principali industrie.
- D Una buona parte del territorio è occupata dalla Pianura Padana, attraversata dal Po e da numerosi altri fiumi.
- E Grazie alle tecnologie avanzate e allo sfruttamento adeguato del territorio, la Regione è tra le più produttive d'Italia in agricoltura.

● Utilizza le informazioni che puoi ricavare dallo schema iniziale e dalle immagini, ed esponi a un/una tuo/a compagno/a ciò che hai imparato sull'Emilia-Romagna.