

SCHEMA DI LAVORO 4

FACILE

Numeri e segni



Metti i segni giusti fra i numeri, scegliendo tra $>$ $<$ $=$.

3 <input type="text"/> 5	4 <input type="text"/> 6	10 <input type="text"/> 3	0 <input type="text"/> 1
6 <input type="text"/> 3	8 <input type="text"/> 6	4 <input type="text"/> 4	1 <input type="text"/> 2
6 <input type="text"/> 8	5 <input type="text"/> 5	6 <input type="text"/> 5	3 <input type="text"/> 3
2 <input type="text"/> 2	1 <input type="text"/> 0	2 <input type="text"/> 1	5 <input type="text"/> 9
6 <input type="text"/> 6	2 <input type="text"/> 3	3 <input type="text"/> 4	9 <input type="text"/> 5



Completa scrivendo i numeri.

6 > <input type="text"/>	8 > <input type="text"/>	3 > <input type="text"/>	<input type="text"/> > 2
5 > <input type="text"/>	7 > <input type="text"/>	6 < <input type="text"/>	<input type="text"/> = 8
3 < <input type="text"/>	2 > <input type="text"/>	2 = <input type="text"/>	<input type="text"/> > 6
4 = <input type="text"/>	3 < <input type="text"/>	<input type="text"/> > 6	<input type="text"/> < 9
7 < <input type="text"/>	5 > <input type="text"/>	<input type="text"/> < 4	<input type="text"/> > 3


NOME

VALUTAZIONE

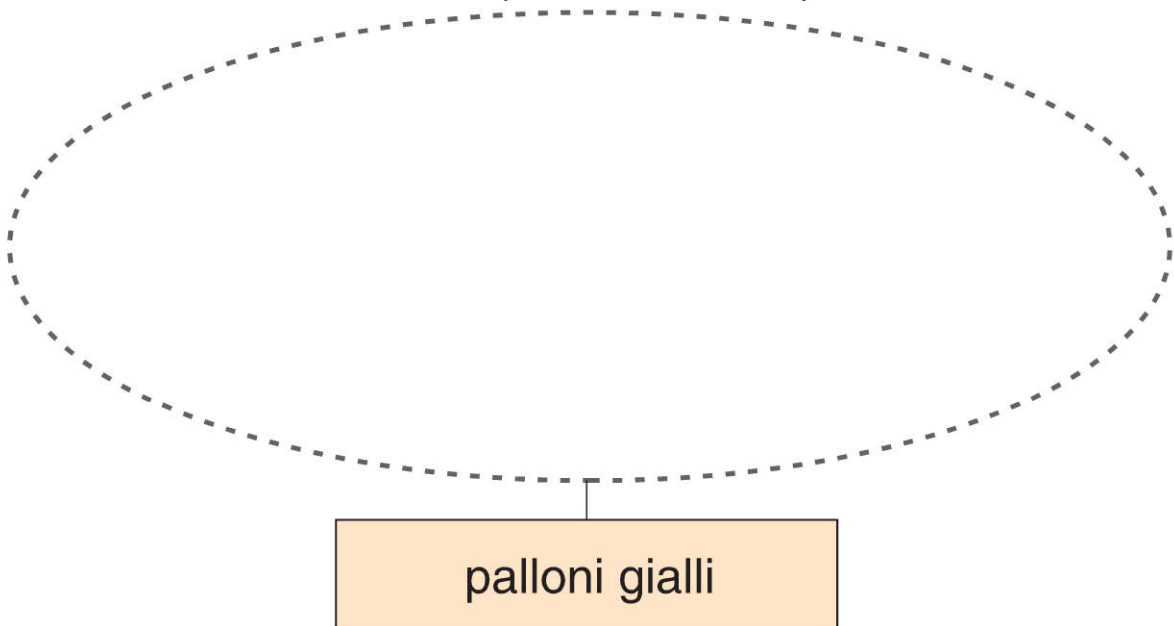
VERIFICA

Indicatore di competenza: rappresenta col disegno la situazione indicata con i numerali *tanti* e *pochi*.

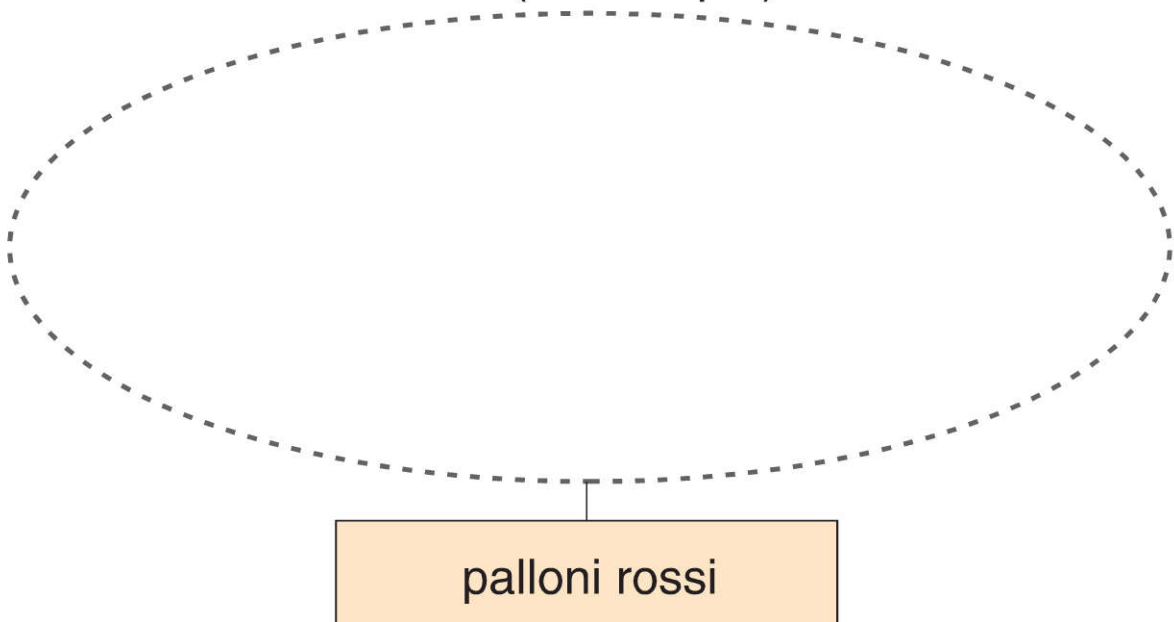
Palloncini rossi e gialli

  L'omino dei palloncini ha dei palloni rossi e dei palloni gialli. Disegna negli insiemi secondo le indicazioni.

Pochi (sono di meno)



Tanti (sono di più)



NOME VALUTAZIONE

SCHEMA DI LAVORO 2

FACILE

Quanti in tutto?

 $\frac{1}{3}^2$  Osserva e completa.

CON IL DISEGNO	CON I NUMERI
	<p>QUANTE CARAMELLE? <input data-bbox="1273 631 1369 728" type="text"/></p> <p>QUANTI CIOCCOLATINI? <input data-bbox="1273 779 1369 875" type="text"/></p> <p>QUANTI DOLCI? <input data-bbox="1273 927 1369 1023" type="text"/></p>

	<p>QUANTI PULCINI FUORI DEL GUSCIO? <input data-bbox="1273 1120 1369 1216" type="text"/></p> <p>QUANTI PULCINI ANCORA NEL GUSCIO? <input data-bbox="1273 1267 1369 1364" type="text"/></p> <p>QUANTI PULCINI IN TUTTO? <input data-bbox="1273 1415 1369 1512" type="text"/></p>
---	---

	<p>QUANTI PALLONCINI CON LE «ORECCHIE»? <input data-bbox="1273 1606 1369 1702" type="text"/></p> <p>QUANTI PALLONCINI SENZA «ORECCHIE»? <input data-bbox="1273 1753 1369 1850" type="text"/></p> <p>QUANTI PALLONCINI IN TUTTO? <input data-bbox="1273 1901 1369 1998" type="text"/></p>
---	--


NOME VALUTAZIONE

SCHEMA DI LAVORO 1

FACILE

Palloncini e fiori

 ¹/₃²  Osserva e completa.



Quanti palloncini volavano?

Quanti palloncini sono scoppiati?

Quanti ne sono rimasti?

Ora scrivi l'operazione giusta.

=

 ¹/₃²  Osserva e completa.

Quante margherite?

Quanti tulipani?

Quanti fiori in tutto?

Ora scrivi l'operazione giusta.

=



NOME

VALUTAZIONE